

## 2010年黑龙江省公务员考试《行测》真题卷

一、言语理解与表达，共35题，本部分包括理解与表达两方面的内容，请根据题目要求选出答案。

1. 客观地说，“网络民主”较传统民主具有一定的优越性，但同时也具有有限性、破坏性。从未来发展看，“网络民主”要成为一种有效、有序、有形的民主形式还有一个相当长的过程，而且还是一个艰难的过程。因此，如何引导“网络民主”发展的方向和进程就显得尤为重要。

以下说法，不合文意的是（ ）

- A、当前的网络民主还不成熟
- B、传统的民主也具有有限性、破坏性
- C、未来，网络民主可能将成为民主的正式形式
- D、下文可能论及引导网络民主发展的方式方法

2. 目前很多城市的新地标，要么比高度，要么比奢华，或是一味追求前卫和怪诞，与周边的历史文脉形成尖锐的反差。由于建筑特别是地标性建筑关涉百年大计，千年大计，一旦造好，就很难改变，因而近年来有不少公认的败笔，已成为城市中极不和谐的音符，为世人所诟病，并为后人留下笑柄。

作者要表达的主要意思是（ ）

- A、城市的新地标应与周边的历史文脉相协调
- B、地标性建筑关涉百年大计，千年大计，一定要造好
- C、一味追求高度、奢华、前卫或者怪诞，造就了很多城市地标败笔
- D、建设城市地标要谨慎，不要为世人所诟病，也不要为后人留下笑柄

3. 中国哲学认为，圣人不是不问世务的人，而且还是“内圣外王”的。内圣，是就其修养的成就说；外王，是就其在社会上的功用说。然而，圣人不一定有机会成为实际政治的领袖。就实际的政治说，他大概是没有机会的。所谓“内圣外王”，只是说，有极高的精神成就的人，按道理说可以为王，而且最宜于为王，至于实际上他有机会为王与否，那是另外一回事，亦是无关宏旨的。

以下说法，不合文意的是（ ）

- A、虽然没有机会成为实际政治的领袖，圣人依然会积极投身于世务
- B、修养极高的人没有机会成为实际政治的领袖是因为不能够完美地处理世务
- C、修养极高的人一定适合成为实际政治的领袖
- D、中国哲学讨论内圣外王，更关注于内圣

4. 随着社会适应性逐渐提高，区分外部自我和内部自我的能力逐渐增强，儿童渐渐能够比较实际地判断社会交往情境，并根据这些判断而表现出复杂的社会自我。同时，儿童自我结构的日趋稳定，使儿童能够根据自己的内部价值标准和信念体系，以及外部情境的需要调整自己的行为。

以下说法，不合文意的是（ ）

- A、自我结构是儿童调整自己行为的依据之一
- B、儿童对社会交往情境的判断能反映出自身的社会自我
- C、社会适应性逐渐提高，区分外部自我和内部自我的能力逐渐增强，使儿童的自我结构趋向稳定
- D、儿童的自我结构和判断社会交往情境的能力几乎同时发展

5. 生物多样性是一定时间、一定地区所有生物物种及其遗传变异和生态系统的复杂性的总称。它是由地球上生命以其环境相互作用并经过几十亿年的演变进化而形成的，是地表自然地理环境的重要构成成分之一。生物多样性与其物理环境相结合而共同构成的人类赖以生存和发展的生命支持系统，是社会经济发展的物质基础，对于维持自然界的生态平衡、美化和稳定生活环境具有十分重要的作用。

以下说法，不合文意的是（ ）

- A、生物多样性是生物在几十亿年的漫长过程中形成的生物群体的总称
- B、生物物种的遗传变异和生态系统的复杂性是生物多样性的重要方面
- C、生物多样性是在漫长的演变进化中，由生命与环境相互作用而形成的
- D、生物多样性有利于维持生态平衡，是人类社会经济发展不可或缺的物质基础

6. 长期以来，中国周边各个区域对中国有不同的认识，而这可能恰恰是很多面使中国自我认识更加准确的镜子。与这些曾经与中国亲密接触、看上去有些接近的文明体比较起来，那个长期以来当作比较镜像的西方，似乎只是一面朦胧含糊的铜镜。虽然看得见整体中国文化的轮廓，却看不清具体文化中国的细节。所以，如果我们转身面向这个周边，套一句经济学界常用的术语，也许它将成为学术的一个新的增长点。因为这一研究领域的开拓，我以为引出的学术史变化，有可能是对语言工具的重新重视、对域外新数据的重新重视。

这段文字的主旨是（ ）

- A、中国应该多研究周边地区的文化
- B、通过对周边地区的研究可以更好地了解中国
- C、中国应该重新重视语言工具和域外新资料
- D、中国需要加强自我认识

7. 学校是传播知识的主渠道，却不是唯一的渠道。学习书本知识固然重要，但在实践中学习也很重要。没有一个科学家的知识是完全从学校学来的，也没有一个科学家的知识完全是从书本学来的。

上述材料所要说明的主旨是（ ）

- A、学习书本知识和参加实践是获得认识的两个来源
- B、人们通过亲自实践而总结出的经验真实可靠，而书本知识是不可靠的
- C、一个人不可能事事亲身实践去获取知识，而且也没有必要那样做
- D、我们既要不断学习书本知识，又要不断地通过实践丰富自己的知识

8. 用刑罚同一切犯罪行为作斗争，保卫国家安全，保卫人民民主专政的政权和社会主义制度，保护国有财产和劳动群众集体所有的财产，保护公民私人所有的财产，保护公民的人身权利、民主权利和其他权利，维护社会秩序、经济秩序，保障社会主义建设事业的顺利进行，是我国刑法的任务。

对这段话的理解正确的是（ ）

- A、我国刑法的目的是打击违法犯罪行为
- B、我国刑法的目的是维护国家和人民的权利
- C、只有刑法才能够保障社会主义建设事业顺利进行
- D、刑法不保障犯罪分子的权利

9. 中国与西方的认识方式、思维逻辑乃至整体的文化观念，存在这样那样的差异。比如，西方式的执着，可能推衍出渐进的认识，强调主体与客体的关系，强调对象描述的精确性；中国式的洒落，则通向圆融和体悟，描述对象时往往在清晰中又带有某种模糊。但二者并没有孰优孰劣，孰是孰非，只有因“差异”发生的对话与启迪、互补与和谐。通过“差异”而达到“中和”，这样的“和而不同”才能成全一个相生共融、丰富多彩的世界。

对这段话的理解不正确的是（ ）

- A、西方注重对象描述的精确性，中国则倾向于清晰性和模糊性共存
- B、中西方的“差异”是对立的，不相互调和，二者都难以为继
- C、文化观念有差异，但没有优劣是非的区别
- D、成全一个相生共融、丰富多彩的世界，是启发两种文化对话的目的

10. 一个人真正的“精神饥饿感”应该从中小学时期开始培养。现阶段我国亟需在学校教育阶段“拯救阅读”，尤其是儿童阅读。“阅读是消灭无知、消灭贫穷、消灭绝望的武器。”一个民族精神境界的高下取决于阅读的水

平；一个人的阅读史，就是他的精神发育史；一个没有阅读的学校永远不可能有真正的教育，而没有阅读的“学习”只能称作“训练”。

对这段话主旨的理解，正确的一项是（ ）

- A、是否从儿时就养成阅读的习惯，将在很大程度上决定一个人的精神境界
- B、阅读应当成为学校教育的重要内容
- C、“学习”与“训练”的最大区别在于“训练”仅仅是技能的培养
- D、阅读是培养“精神饥饿感”的最佳方法

11. 商品化使民间艺术发生的变异正在全国各地普遍发生着。这种貌似“茁壮成长”的民间艺术，在文化意义上却是本质性的消亡。难道民间艺术只有这样一种出路吗？世界上还有另一种对待自己传统和文化的方式——那就是保持住民间艺术中那种对生活的虔诚与执着，把它视为一种传统精神，一种民族情感与精神的载体。人们知道，在当今这样做何其困难。所以，普查与记录原生态的民间艺术就是迫不及待要做的事了。这不只是为了记录一种文化形态，一种充满情感的美，更是为了见证与记载一种历史精神。

对这段话的理解，正确的一项是（ ）

- A、民间艺术的商品化使民间艺术得以保存，而不至于因传统社会向现代社会的大变革而消灭
- B、民间艺术的商品化使民间艺术得以保存，普查与记录现有的民间艺术已没有实质意义
- C、要保持民间艺术作为民族情感与精神的一种载体，在商业化的现时代已变得非常困难
- D、在民间艺术商品化的情况下，民间艺术的传承者应重塑民间艺术充满情感的美，并使得民间艺术成为一种见证与记载历史的精神

12. 中国改革之难，最难的不是发现问题并提出对策，而是改革必须考虑 13 亿人口的根本利益和长远利益。避免引起社会动荡，避免激化矛盾，既积极又稳妥，是中国改革开放 30 年始终坚持的信念，也是一路渡险滩、克难题的制胜法宝。

根据以上文字，下列表述正确的是（ ）

- A、避免引起社会动荡，避免激化矛盾是当前改革中最关键的问题
- B、保持社会稳定、兼顾最广大群众利益是中国改革最棘手的问题
- C、中国在改革中必须要考虑人口众多这一现实问题
- D、兼顾发展与稳定的关系是中国改革开放取得成功的法宝

13. 领导带领机关干部扫大街，从官员和机关的角度看，这当然是好事，可以拉近与民众的距离，显示出领导干部勤政为民。但是，从干部的个人权利讲，义务劳动不是不可以，但不能是行政命令的驱使；从环卫部门的角度来看，如果干部常态化扫街确有必要，反映出的可能是两个方面的问题，要么环卫工人的数量不够，人手短缺；要么是环卫工人不好好干活，工作留下了很多死角。

下列表述最能概括上述文字内容的是（ ）

- A、领导干部带头扫街、参加义务劳动是对个人权利的侵犯
- B、领导干部带头扫街能激发环卫部门工作人员的工作积极性
- C、领导干部带头扫街可以拉近与民众的距离，促进干群关系和谐
- D、领导干部带头扫街，很可能造成民众的误解，达不到理想效果

14. 如果说“家电下乡”给了家电企业开拓农村消费市场的机遇，那么，“进城”则更能为企业创造更好的销售业绩。因为在城市里，居民更容易接受新的生活和消费方式。假如“家电进城”也得到政府的相关政策支持和补

贴的话，企业应当有理由在城镇市场上发掘出新的消费潜力，客观上让城市低收入和失业居民也得到家电产品消费的实惠。

下列符合作者观点的一项是（ ）

- A、“家电下乡”不可能给企业带来良好的销售业绩
- B、城市低收入和失业居民更需要政策支持和补贴
- C、政府应该支持企业的“家电进城”，大力推广新产品
- D、和农村市场比较，城镇消费市场同样具有挖掘的潜力

15. 生态农业的生产以资源的永续利用和生态环境保护为重要前提，根据生物与环境相协调适应、物种优化组合、能量物质高效率运转、输入输出平衡等原理，运用系统工程方法，依靠现代科学技术和社会经济信息的输入来组织生产。通过食物链网络化、农业废弃物资源化，充分发挥资源潜力和物种多样性优势，建立良性物质循环体系，促进农业持续稳定地发展，实现经济、社会、生态效益的统一。

根据以上文字，下列说法错误的是（ ）

- A、生态农业是一种知识密集型的现代农业体系，是农业发展的新型模式
- B、生态农业能把分散的、局部的单项农业技术综合集成起来形成集约优势
- C、生态农业是以生态经济系统原理为指导建立起来的综合性农业体系
- D、生态农业是兼顾资源、环境、效率、效益的一种现代农业生产模式

16. 干部精神状态如何，或大或小地影响到老百姓的生活和福祉。如果每个人都振作起来，就会把各方面的工作干得更好，就可能使社会多增加一些就业岗位；就可能使农民收入增加；就可能使贫困地区的中小学多增加几张课桌。

这段话的中心论点是（ ）

- A、干部精神状态的好坏，直接决定着老百姓生活质量的高低
- B、农民生活水平的提高，与领导干部的带头模范作用分不开
- C、如果每个人都振作起来，就可能增加就业岗位
- D、干部作风和干劲是推动我们各项事业发展进程的领导力量

17. 中国银行北京分行的个人外币存款额已突破 10 亿美元；在该行累计发放的 20 亿美元外汇贷款中有相当大的比例来自居民个人存款。

这段话的主要意思是（ ）

- A、个人拥有的外币总额已相当可观
- B、该行累计发放的外汇贷款中，有二分之一的款项来自居民个人
- C、该行 20 亿美元贷款，相当大的比例是贷给居民个人的
- D、该行个人外币存款额已占存款总额的二分之一

18. 近几年来，政府通过各类手段，促使产业结构升级，促进经济的可持续发展。但是，经济转型政策在短期内对经济增长带来的负面影响显而易见。受限制的行业在较短时期内会因政策的压力而放慢增长。同时，受扶植政策不到位、市场培育滞后、技术开发存在瓶颈等因素影响，新的产业成长将较为缓慢，无法对冲前者带来的负面影响。

这段文字结尾处的“前者”是指（ ）

- A、政府各种促使产业结构升级的政策
- B、政策在短期内对经济增长的负面影响



C、受限制的行业在短时期内增长缓慢

D、政策、市场、技术开发瓶颈等因素

19. 就目前房地产市场成交量增加的现象，有分析认为，中国地产引擎可能重新启动。果真如此的话，这将在外需出现困境的背景下引领中国经济走出低谷。对比 1986 年日本的情况，如果政府引导得当，中国经济将可能因为地产业的重新启动而率先走出困局。当然，基于美国当年的经验，经济重新启动可能是一个相对漫长的过程。

根据上述文字，下列表述正确的一项是（ ）

A、成交量的提升给地产市场甚至中国经济带来了回暖希望

B、随着地产业的重新启动和振兴，中国经济将率先走出低谷

C、地产业能否重新成为国民经济的支柱，取决于政府的引导

D、如果地产业不能重新启动，中国经济走出困境则需较长时间

20. 科学发展观是指导发展的科学理论，是应对危机的有力武器。要运用科学发展观寻找应对之策，坚持走科学发展之路，渡过难关。要进一步深化学习，加深对科学发展观精神实质和现实指导意义的理解，切实增强贯彻落实科学发展观的自觉性和坚定性。要科学分析形势，增强必胜信心，把国际金融危机带来的压力转化为推动科学发展的动力，从实际出发创造性地贯彻落实中央“保增长、扩内需、调结构”的方针政策，着力解决经济运行中的突出问题，把国际金融危机带来的损失降低到最低程度。

这段文字着重强调的是（ ）

A、要进一步深化学习，加深对科学发展观精神实质和现实指导意义的理解

B、要以科学发展观为指导，应对国际金融危机给我国经济社会带来的挑战

C、要增强信心，把国际金融危机带来的压力转化为推动科学发展的动力

D、要从实际出发创造性地贯彻落实中央“保增长、扩内需、调结构”的方针政策

21. 根据第四次全国结核病流行病学抽样调查报告，我国结核菌感染率为 44.5%，估算全国感染人口 5.5 亿，结核病的防治已经\_\_\_\_\_。

填入画横线部分最恰当的一项是（ ）

A、不容忽视

B、迫在眉睫

C、任重道远

D、时不我待

22. “更开放、更节俭、更务实”，这些真切的感受\_\_\_\_\_着中国经济稳步前行的步伐，也让仍在金融危机中徘徊的世界看到了中国的信心与力量

填入画横线部分最恰当的一项是（ ）

A、证明

B、昭示

C、展现

D、印证

23. 恪守新闻真实性，是新闻界共同的“铁律”，新闻的生命也在于此。任何细节的\_\_\_\_\_，都是新闻工作的\_\_\_\_\_，都是新闻工作者的\_\_\_\_\_。

依次填入画横线部分最恰当的一项是（ ）

A、谬误 不幸 失误

B、失真 责任 失信

C、失实 失误 耻辱

D、失误 耻辱 悲哀

24. 物流的基础设施和装备的完善，涉及到整个行业的\_\_\_\_\_布局，即港口、码头、火车、汽车、集装箱转运站等点、线、面的全方位结合。

填入画横线部分最恰当的一项是（ ）

A、空间

B、规划

C、整体

D、区位

25. 其实，当前老百姓不仅要提防假冒伪劣商品，各种有害食品也需要老百姓自己\_\_\_\_\_、自己学会防范（ ）

填入画横线部分最恰当的一项是（ ）

A、辨别            B、甄选            C、识别            D、分辨

26. 清凉的天气已经\_\_\_\_\_了整整一周时间，气象部门提醒，由于春天是雷电和强降水多发季节，市民要及时做好\_\_\_\_\_，减少因强对流天气造成的损失。

依次填入画横线部分最恰当的一项是（ ）

A、持续 防御    B、继续 抵御    C、连续 预防    D、维持 防范

27. 我国的人民代表大会制度，是实现人民当家作主和保障公民政治\_\_\_\_\_的主要形式。

A、权力            B、兴趣            C、义务            D、权利

28. 这几项有关职工福利的方案，是全厂职工代表大会\_\_\_\_\_的，任何人无权随意改动。

A、核定            B、商定            C、规定            D、审定

29. 这些\_\_\_\_\_党纪国法的人已经堕落为社会的蠹虫、人民的罪人，面临的将是严肃的法律\_\_\_\_\_，怎么还会异想天开地要求保留党籍呢？

依次填入画横线部分最恰当的一项是（ ）

A、违反 制裁            B、违犯 惩罚            C、违犯 制裁            D、违反 惩罚

30. 改革开放以来，中国农学会\_\_\_\_\_“献身、创新、求实、协作”的宗旨，始终不渝地坚持以推动农业科技进步、促进农村发展为己任，大力开展学术交流和科技普及，积极\_\_\_\_\_和举荐人才，为提高广大农民科技素质、加快农业科技进步作出了重要贡献。

依次填入画横线部分最恰当的一项是（ ）

A、继承 出谋划策    B、继承 建言献策    C、秉承 建言献策    D、秉承 出谋划策

31. 将选项中的词语依次填入下列各句横线内，最恰当的一组是（ ）

- ①人人都有心中最值得\_\_\_\_\_和喜欢的地方，或许是城市小巷，或许是山林大川，总会有个地方值得你去向往。
- ②他不顾刺骨的寒冷跳进河中，救上三名落水儿童，全校师生都在\_\_\_\_\_他英勇救人的事迹。

依次填入画横线部分最恰当的一项是（ ）

A、留念 传诵            B、留念 传颂            C、留恋 传诵            D、留恋 传颂

32. 长江流域，无疑也是中华民族文化的\_\_\_\_\_之一。考古发现\_\_\_\_\_，旧石器时代处于长江上游今云南境内的元谋人，与黄河流域今陕西境内的蓝田人\_\_\_\_\_。这个结论具有划时代的意义。

依次填入画横线部分最恰当的一项是（ ）

A、发源地 表明 共存    B、发祥地 证明 并存    C、发源地 证明 并存    D、发祥地 表明 共存

33. 依次填入下列横线处的词语，最恰当的一组是（ ）①全面建设小康社会，要求我们的干部一定要当好人民的“公仆”，否则就是对这一称号的\_\_\_\_\_。②春节临近，海峡两岸人民“三通”呼声越来越高，然而台湾当局却认为，与大陆谈判的时机还不成熟。本来可以深入的新一轮谈判因此而\_\_\_\_\_了。③著名足球评论员王健翔认为，要想彻底解决中超联赛中执法不公的“黑哨问题”，就必须\_\_\_\_\_产生这一现象的社会土壤。

依次填入画横线部分最恰当的一项是（ ）

A、污蔑 搁浅 铲除    B、诬蔑 搁浅 根除    C、污蔑 搁置 根除    D、诬蔑 搁置 铲除

34. 各级政府主管部门和财政机关不再把企业置于直接管理之下，并不等于完全放弃对企业经营活动的\_\_\_\_\_和\_\_\_\_\_（ ）

依次填入画横线部分最恰当的一项是（ ）

A、管理 限制            B、领导 控制            C、引导 控制            D、引导 制约

35. 依次填入下列各横线处的词语，最恰当的一组是：①杭州要解决交通拥堵问题难度非常大，但各有关部门仍要\_\_\_\_\_为之。②要落实西部大开发战略，就必须加强东部沿海经济发达地区和西部地区的\_\_\_\_\_。③形势发展非常快，\_\_\_\_\_使许多人出乎意料。

依次填入画横线部分最恰当的一项是（ ）

- A、勉力 沟通 以至      B、勉励 沟通 以致      C、勉力 勾通 以致      D、勉励 勾通 以至

## 二、数量关系，共 20 题，本部分包括数字推理、数理计算。

36. 1, 2, 0, 3, -1, 4, ( )

- A、-2      B、0      C、5      D、6

37. 168, 183, 195, 210, ( )

- A、213      B、222      C、223      D、225

38. 3, 10, 21, 35, 51, ( )

- A、59      B、66      C、68      D、72

39.  $\frac{1}{4}, \frac{2}{5}, \frac{5}{7}, 1, \frac{17}{14}, ( )$

- A、 $\frac{15}{17}$       B、 $\frac{16}{17}$       C、 $\frac{15}{19}$       D、 $\frac{26}{19}$

40. 0, 3, 2, 5, 4, 7, ( )

- A、6      B、7      C、8      D、9

41. 一个正方体木块放在桌子上每一面都有一个数，位于对面两个数的和都等于 13，小张能看到顶面和两个侧面，看到的三个数和为 18；小李能看到顶面和另外两个侧面，看到的三个数的和为 24，那么贴着桌子的这一面的数是多少？（ ）

- A、4      B、5      C、6      D、7

42. 三个单位共有 180 人，甲、乙两个单位人数之和比丙单位多 20 人，甲单位比乙单位少 2 人，求甲单位的人数（ ）

- A、48 人      B、49 人      C、50 人      D、51 人

43. 四年级有 4 个班，不算甲班其余三个班的总人数是 131 人；不算丁班其余三个班的总人数是 134 人；乙、丙两班的总人数比甲、丁两班的总人数少 1 人，问这四个班共有多少人？（ ）

- A、177      B、178      C、264      D、265

44. 有四个数，其中每三个数的和分别是 45, 46, 49, 52，那么这四个数中最小的一个数是多少？（ ）

- A、12      B、18      C、36      D、45

45. 一次数学考试共有 20 道题规定：答对一题得 2 分，答错一题扣 1 分，未答的题不计分。考试结束后，小明共得 23 分，他想知道自己做错了几道题，但只记得未答的题的数目是个偶数。帮助小明计算一下，他答错了多少道题？（ ）

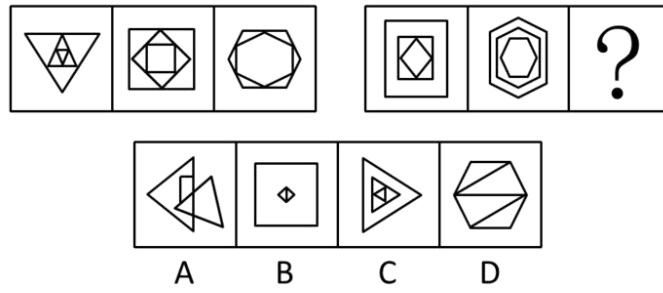
- A、3      B、4      C、5      D、6

46. 某工厂 11 月份工作忙，星期日不休息，而且从第一天开始，每天都从总厂陆续派相同人数的工人到分厂工作，直到月底，总厂还剩工人 240 人。如果月底统计总厂工人的工作量是 8070 个工作日（一人工作一天为 1 个工作日），且无人缺勤，那么，这月由总厂派到分厂工作的工人共多少人（ ）

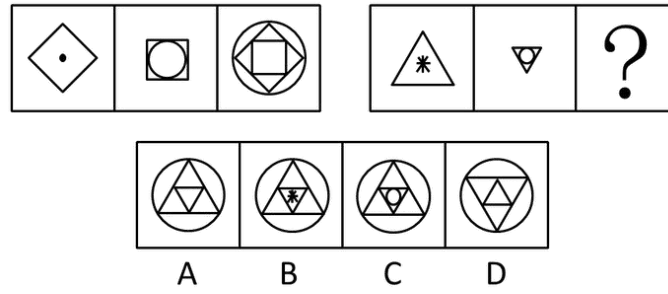




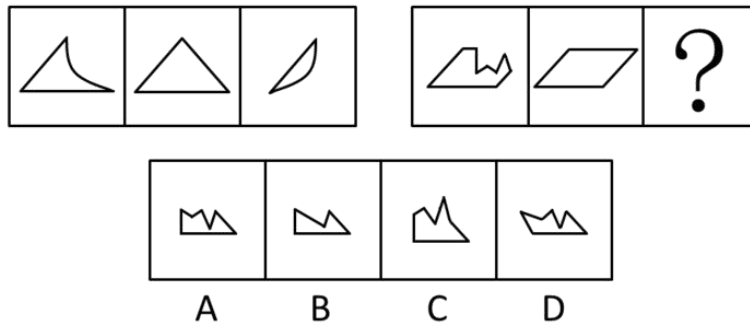
57. 从所给的四个选项中，选择最合适的一个填入问号处，使之呈现一定的规律性 ( )



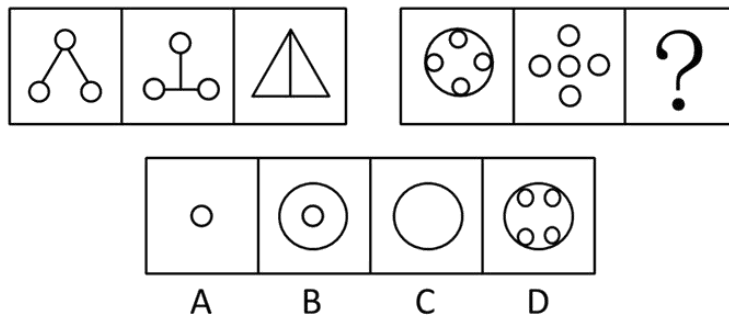
58. 从所给的四个选项中，选择最合适的一个填入问号处，使之呈现一定的规律性 ( )



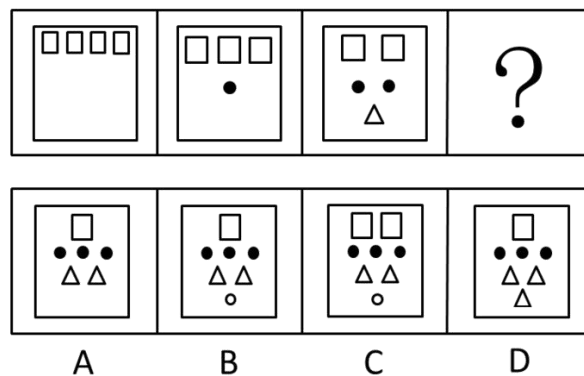
59. 请从所给的四个选项中，选择最适合的一项填在问号处，使之呈现一定的规律性 ( )



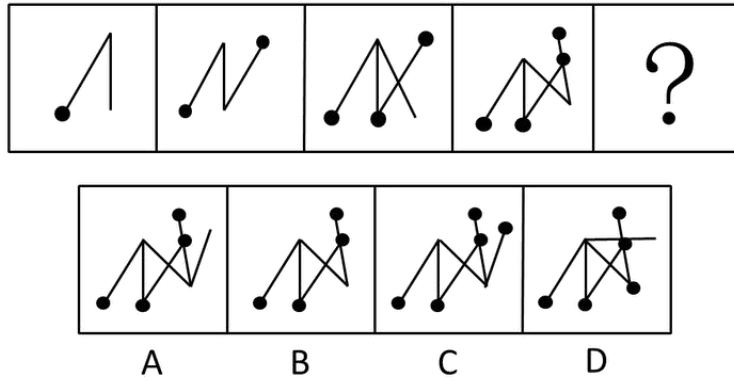
60. 从所给的四个选项中，选择最合适的一个填入问号处，使之呈现一定的规律性 ( )



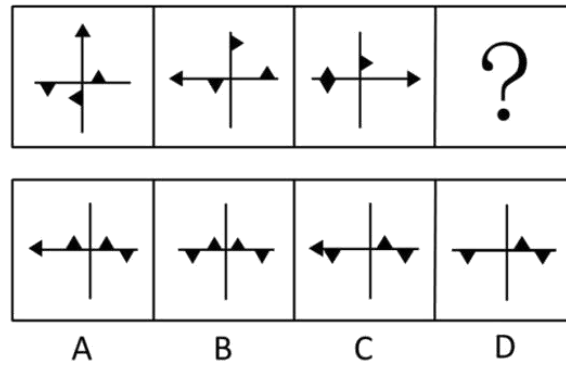
61. 从所给的四个选项中，选择最合适的一个填入问号处，使之呈现一定的规律性 ( )



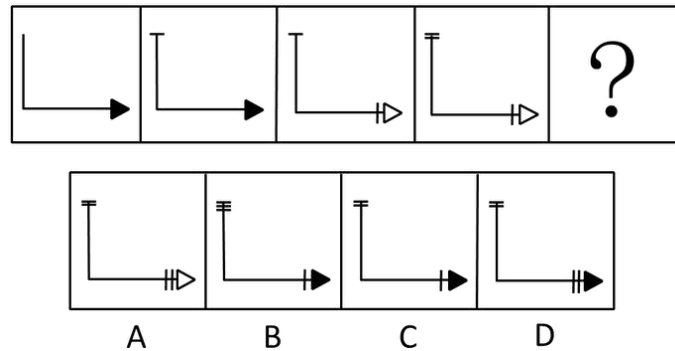
62. 从所给的四个选项中，选择最合适的一个填入问号处，使之呈现一定的规律性 ( )



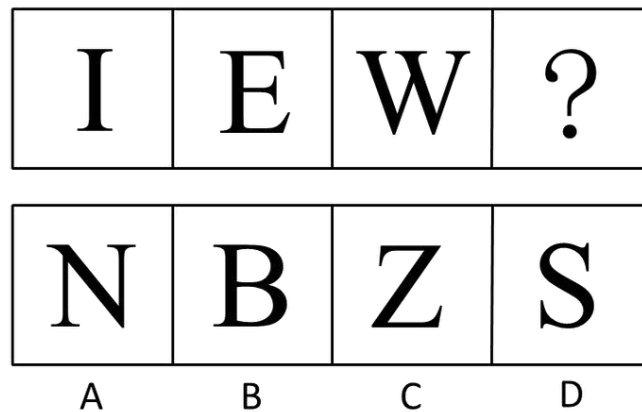
63. 从所给的四个选项中，选择最合适的一个填入问号处，使之呈现一定的规律性 ( )



64. 从所给的四个选项中，选择最合适的一个填入问号处，使之呈现一定的规律性 ( )



65. 从所给的四个选项中，选择最合适的一个填入问号处，使之呈现一定的规律性 ( )



66. 资本输出是指资本家、资本家集团或资本主义国家政府为了获得高额利润或利息对国外进行投资或贷款。

根据以上的定义，下面哪个不属于资本输出？ ( )

A、购买国外的油田、矿井

B、金融危机期间，很多国内私人企业纷纷到国外并购外国公司

C、购买国外企业的有价证券及股票                      D、向海外发行本国企业的股票和债券

67. 直觉思维是指行为步骤和思维过程不明确、不清晰，对某些现象或者问题直接地迅速地作出某些猜想、假设或判断的思维。

下面哪一个是典型的直觉思维？（    ）

- A、公安刑警根据收集到的证据，对案件进行分析    B、军事指挥员根据侦察兵的情报材料作出军事决策。  
C、根据所学过的知识解答考试时的难题。            D、医生根据病人的口述材料，迅速的做出疾病的诊断。

68. 职务侵占罪是指公司、企业或者其他单位的人员，利用职务上的便利，将本单位财物非法占为己有，数额较大的行为。

下列行为属于职务侵占罪的是（    ）

- A、张某是名乘警，他将乘客遗失在列车上价值 5000 元的物品占为己有  
B、刘某是某工地的材料工人，负责工地物品的调拨，几次私自将公司的建筑材料卖给别人，共卖了 2 万元  
C、刘某是单位的保管员，一天他趁其他同事不注意的时候，将一个 200 元的收音机拿回家给儿子用  
D、赵某是一跨国公司的会计师，私自作假账，使公司偷税高达 200 万余元

69. 感觉是指客观刺激作用于感觉器官，经过脑的信息加工活动所产生的对客观事物的基本属性的反映。感觉作为认识过程的初级阶段，为知觉和其他复杂认识过程提供最基本的原始材料。感觉的种类可依其信息的来源分为外部感觉和内部感觉两大类。外部感觉包括视觉、听觉、味觉、嗅觉和肤觉。内部感觉反映机体本身的状态，包括动觉、平衡觉和机体觉。

根据上述定义，下列说法属于感觉的是（    ）

- A、小明放学回家后，看到餐桌上有一盘刚好做好的红烧肉  
B、小明放学回家后，听到收音机里正播放一首非常好听的歌曲  
C、小明放学回家后，感觉自己的房间刚刚被妈妈打扫干净了  
D、小放放学回家后，感觉天气非常冷

70. 表见代理是指行为人没有代理权、超越代理权或者代理权终止后以被代理人名义订立合同，相对人有理由相信行为人有代理权的，该代理行为有效。

根据上述定义，下列属表见代理的是（    ）

- A、甲委托乙前往丙厂采购男装，乙觉得丙生产的女装会有更好的市场，便自作主张以甲的名义向丙订购。丙未问乙的代理权限，便与之订立了买卖合同  
B、甲是乙企业的销售人员，随身携带盖有乙企业公章的空白合同书，便于随时对外签约。后甲因收取回扣被乙企业除名，但空白合同书未收回。甲以此合同书与丙签订购销协议  
C、甲无意中捡到乙的存折后，向乙借用其身份证，到银行提取现金  
D、甲原是某税务机关工作人员，辞职后，他仍穿着制服到市场上收税

71. 晕轮效应，又称“光环效应”、“成见效应”、“光晕现象”，是指在人际相互作用过程中形成的一种夸大的社会印象，正如日、月的光辉，在云雾的作用下扩大到四周，形成一种光环作用。常表现在一个人对另一个人（或事物）的最初印象决定了他的总体看法，而看不准对方的真实品质，形成一种好的或坏的“成见”。所以光环效应也可以称为“以点概面效应”。是主观推断的泛化、定势的结果。

根据上述定义，下列属于晕轮效应的是（    ）

- A、一见钟情            B、三岁看八十            C、小时了了，大未必佳            D、一朝被蛇咬，十年怕井绳

72. 联营企业指两个及两个以上相同或不同所有制性质的企业法人或事业单位法人，按自愿、平等、互利的原则，共同投资组成的经济组织。

下列属于联营企业的是（ ）

- A、经协商，某外资企业与国有企业共同出资，在某山区兴建十所希望小学
- B、某知名企业与一所重点大学的学科带头人合作，成立以研发为主的高科技企业
- C、甲公司是乙公司与丙公司合资兴建的高科技企业，近日，甲公司与乙公司共同投资，组建一家外贸企业
- D、张某是某国有企业的法人代表，近日，他与某科学技术公司共同投资，建立贸易公司

73. 某市实施“4050”工程，旨在为特殊历史时期形成的女性40岁以上、男性50岁以上的下岗后再就业困难的本市人员度身定制就业岗位，以市场化、社会化的运作机制，促进其就业。

下列可以申请4050工程就业机会的是（ ）

- A、张某是在本市打工的河南人，由于超过50岁，找不到工作，于是他去4050工程申请就业
- B、刘某在该市一直没有工作，当她听到这一就业政策后，42岁的她去4050工程申请就业
- C、1990年，30岁的刘阿姨从上海某工厂下岗后，摆了个修鞋摊，由于生意不好，去年就不做了，现在在家闲着，今年她去4050工程申请就业
- D、张先生从某中学退休后，由于身体保养的好，看上去才四十岁左右，他感到在家里没事干，就去4050申请再就业

74. 缺陷补偿是指个体在充当社会角色时不可能事事成功，当自我角色目标失败时，常常可能会对相关的社会角色的重要性做重新评价，从而进行自我定义以补偿自己角色缺陷。

根据上述定义，下列属于缺陷补偿的是（ ）

- A、小王认为评上优秀员工是晋升的关键，因此当评选失利后决定在下一次的评选中再接再厉
- B、小张有份很不错的工作，他参加公务员考试是抱着试试看的态度，所以当他得知自己没有通过考试时并未觉得太遗憾
- C、黄某大学毕业后求职不顺利，他觉得这是由于自己不是名牌大学毕业生，否则就业会容易的多
- D、袁女士离婚后全身心投入工作，取得了很大成绩，她认为事业成功比婚姻幸福更重要

75. 现在统计中常用的人均可支配收入由四部分构成，分别是：工资性收入、转移性收入、经营性收入和财产性收入。财产性收入一般是指家庭拥有的动产（如银行存款、有价证券等）、不动产（如房屋、车辆、土地、收藏品等）所获得的收入。它包括出让财产使用权所获得的利息、租金、专利收入等；财产营运所获得的红利收入、财产增值收益等。

根据上述定义，下列属于财产性收入的是（ ）

- A、王某家传的青花瓷器在展览会上被专家估价为200万元
- B、李某买了一辆载重10吨的货车跑运营，每年收入8万元以上
- C、赵某为公司做出重大贡献，公司给予10万元的奖励
- D、高某在闹市有一间房屋，某厂家在房顶安放了广告牌，并支付给他一定费用

76. 作家：出版商（ ）

- A、售货员：商店
- B、主持人：广告
- C、菜农：菜贩
- D、经理：秘书

77. 稻谷：大米（ ）

- A、核桃：桃酥
- B、棉花：棉籽
- C、西瓜：瓜子
- D、花生：花生酱

78. 火车：地铁（ ）

- A、轿车：货车      B、飞机：火箭      C、索道：山路      D、木船：汽船

79. 高山：陆地（ ）

- A、波浪：海洋      B、暴雨：雷电      C、白云：蓝天      D、电能：电网

80. 聪明：愚蠢（ ）

- A、男人：女人      B、黑色：白色      C、墨镜：光明      D、财富：贫困

81. 父亲：女儿（ ）

- A、叔叔：阿姨      B、儿子：女婿      C、姨夫：姨妈      D、外祖父：母亲

82. 药物：治病（ ）

- A、滑板：运动      B、食物：饥饿      C、扫帚：卫生      D、新闻：采访

83. 医生：病人（ ）

- A、园丁：花朵      B、父母：子女      C、青蛙：庄稼      D、啄木鸟：害虫

84. 蜜蜂：蜂蜜（ ）

- A、蝴蝶：茧蛹      B、母鸡：鸡蛋      C、父亲：孩子      D、农民：粮食

85. 枕头：卧具（ ）

- A、铅笔：工具      B、地球：宇宙      C、宣纸：文具      D、车厢：火车

86. 群众对领导干部的不满，不仅产生于领导的作为和业绩，而且很大程度上是由于对领导的期望值与实际表现之间的差距。因此，如果竞选任何一个单位或部门的领导，竞选者在竞选过程中一味向群众许愿、夸海口是一种不明智的做法。

从以上议论可以推出以下哪项结论？（ ）

- A、只要群众对领导的期望值足够低，即使这个领导在职期间无所作为，群众也不会产生不满情绪  
B、只要领导的作为和业绩出色，群众就不会产生不满情绪  
C、由于群众的期望值高，尽管领导的工作成绩优秀，群众的不满情绪仍可能存在  
D、聪明的领导竞选者在竞选时不应向群众承诺什么

87. 某工厂进行结构重组，计划减员 25%，撤销三个生产车间，这三个生产车间的人数正好占工厂总人数的 25%。计划实施后，上述三个生产车间被撤销，整个工厂实际减员 15%。此过程中，工厂内部人员有所调整，但整个工厂只有减员，没有增员。

如果上述判定为真，以下哪项一定为真？（ ）

- I 上述计划实施后，有的生产车间调入新成员  
II 上述计划实施后，没有一个生产车间调入的新成员的总数超出工厂原来总人数的 10%  
III 上述计划实施后，被撤销的生产车间中的留任人员不超过工厂原来总人数的 10%
- A、只有 I      B、只有 I 和 II      C、只有 II 和 III      D、I、II 和 III

88. 在毕业考试结束后，班长想从老师那里打听成绩。班长说：“老师，这次考试不太难，估计我们班同学的成绩都在 70 分以上吧。”老师说：“你的前半句话不错，后半句话不对。”

根据老师的意思，下列哪项必为事实？（ ）

- A、少数同学的成绩在 70 分以上，多数同学的成绩在 70 分以下  
B、多数同学的成绩在 70 分以上，少数同学的成绩在 70 分以下



C、有的同学的成绩在 70 分以上，有的同学的成绩在 70 分以下

D、如果以 70 分为及格，肯定有的同学的成绩不及格

89. 小明忘记了今天是星期几，于是他去问 O、P、Q 三人。O 回答：“我也忘记今天是星期几了，但你可以去问 P、Q 两人。” P 回答：“昨天是我说谎的日子。” Q 的回答和 P 一样。已知：

- ① O 从来不说谎；
- ② P 在星期一、星期二、星期三这三天说谎，其余时间都讲真话；
- ③ Q 在星期四、星期五、星期六这三天说谎，其余时间都讲真话。

根据以上条件，今天是星期几？（ ）

- A、星期一            B、星期二            C、星期四            D、星期天

90. 五人——J、K、L、M 和 O 聚在一起玩一种叫“三人玩”的游戏。游戏的每一圈只能三个人玩。下列是所有的规则，它将影响到每圈游戏参加者的顺序和玩的圈数：

- ① 没有人可以连续玩三圈；
- ② 没有人可以连续两圈不玩；
- ③ 每个人都必须玩三圈。

如果 J、L 和 M 玩第一圈，而 K、M 和 O 玩第二圈，下列哪一位一定玩第四圈？（ ）

- A、J            B、K            C、L            D、M

91. 一项调查报告显示，儿童意外伤害地点排名中，客厅卧室占 39.85%，排名居首，其次才是幼儿园占 37.41%，再次是公共场所和娱乐场所 22.74%，由此有专家认为，儿童受伤，头号凶手是“家”。

最能削弱上述结论的是（ ）

- A、调查显示，很多情况下儿童受伤是因为年轻父母缺乏经验造成的
- B、据调查，造成意外死亡的地点大多是在公共场所和娱乐场所
- C、统计显示，儿童在客厅卧室的时间占儿童活动时间的 50%以上
- D、这份调查是针对 3 至 6 岁儿童进行的

92. 甲、乙、丙三人，他们的职业有律师、医生和教师。已知：1、丙的收入比教师高；2、甲的收入和医生不同；医生的收入比乙少。

根据以上条件，下列对甲、乙、丙三人身份判断正确的是（ ）

- A、甲是律师 乙是教师 丙是医生            B、甲是教师 乙是医生 丙是律师
- C、甲是教师 乙是律师 丙是医生            D、甲是律师 乙是医生 丙是教师

93. 经某省动物检验部门对本省生猪市场在售生猪的检验发现，有 1%的生猪含有瘦肉精。但该省动物检验部门明确只有非本省生产的生猪才接受该项检验。有关专家因此推断，该省在售生猪中含有瘦肉精的比例将大大低于 1%。

以下最有力地支持专家推断的一项是（ ）

- A、该省境内在售生猪中，非本省生产的生猪比例不到 1%
- B、该省境内，非本省生产的生猪含瘦肉精的比例约占外省生猪总数的 0.1%
- C、与该省交界的乙省境内，至今未收到关于在售生猪含瘦肉精的报告
- D、与正常的生猪相比，含瘦肉精的生猪更多地销售到外省去

94. 甲、乙、丙、丁四个队进行足球循环比赛，已知下列情况：

队名	比赛场数	胜	负	平	进球	失球
甲队	2	1	0	1	6	5
乙队	3	2	0	1	2	0
丙队	2	0	2	0	7	9
丁队						

从以上条件，可得出的结论是（ ）

- A、乙队以 2：0 的比分战胜丙队  
 B、乙队对丁队的比分是 1：0  
 C、丙队以 7：8 的比分输给了甲队  
 D、乙队和丁队有可能踢成平局

95. 有人向某市政府提议应该在所有新建的房屋内安装一种起火时会自动激发的洒水器。但是一位房地产开发商认为，既然 90% 的房屋着火都是被家庭成员扑灭的，所以安装室内自动洒水器对灭火意义不大。

以下哪项如果为真，则最能削弱房地产开发商的观点？（ ）

- A、大多数人都没有经过灭火技能的正规训练。  
 B、在住宅内安装烟雾探测器比安装洒水器要便宜得多。  
 C、该市消防队奔赴火场的时间要比全国平均时间短。  
 D、住宅着火导致的大部分财产损失是因为起火时家人都不在场。

四、资料分析，共 20 题，所给出的材料均有多个问题，根据资料所提供的信息进行分析、比较、计算和判断处理。

(一)、根据下表完成各题。

2003 年我国部分地区工业污染治理投资来源情况（亿元）

地区	污染治理项目本年投资来源总额	国家预算内资金	环保专项资金	其他资金	国内贷款	利用外资	企业自筹
北京	6.40	0.22	4.43	1.75	0.06	--	--
江苏	15.00	0.04	0.96	14.03	1.35	1.03	11.62
浙江	10.50	0.51	0.27	9.67	2.28	0.14	6.63
福建	12.90	0.53	0.27	12.09	0.26	0.11	11.01
山东	35.20	1.33	0.86	32.96	5.01	0.26	24.57
广东	25.10	6.97	0.31	17.79	2.12	1.22	13.95
甘肃	3.57	0.31	0.12	3.15	0.64	--	1.78

96. 2003 年甘肃全省污染治理投资总额约为同期北京环保专项资金的（ ）

- A、55%      B、60%      C、75%      D、80%

97. 2003 年上述七省市工业污染治理资金投资总额为填入画横线部分最恰当的一项是（ ）亿元。

- A、108.67      B、91.44      C、69.56      D、110.36

98. 如果 2001 年广东省工业污染治理国家预算内资金 3.10 亿元，则 2001 至 2003 年，该项资金年平均增长率约（ ）

- A、75%      B、60%      C、50%      D、36%

99. 以下说法正确的一项是填入画横线部分最恰当的一项是 ( )

- A、2003 年福建全省工业污染治理资金主要来源于企业自筹
- B、2003 年工业污染治理任务最重的是山东省
- C、2003 年浙江省工业污染治理国内贷款额比江苏省的少
- D、2003 年北京无需利用外资治理工业污染

(二)、请根据下表完成各题。

有学者跟踪研究了某群体 500 名成年人的收入情况, 并将 1991 年该人群的收入分布在 1996 年的变动情况绘制成表 2。如 1991 年属于收入最低 1/5 组的该人群在 1996 年时有 51 人依然处于同一位置, 而有 4 人进入了收入最高 1/5 组。

1991 年某群体 500 名成年人的收入分布在 1996 年的变动情况

1991 年收入分组	1996 年收入分组					全部成年人
	最低 1/5	次低 1/5	中 1/5	次高 1/5	最高 1/5	
最低 1/5	51	26	12	7	4	100
次低 1/5	25	35	22	12	6	100
中	11	21	33	23	12	100
次高 1/5	8	12	20	37	23	100
最高 1/5	4	6	11	21	58	100

注: 表内数字单位为“人”

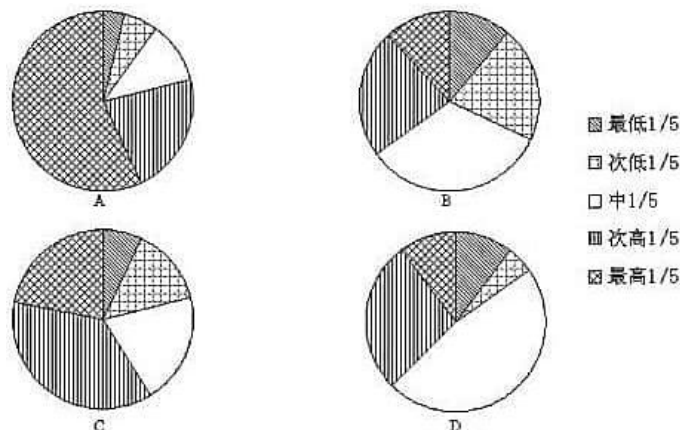
100. 在 1991 年, 收入属最低 1/5 组的该人群当中, 有 ( ) 在 1996 年进入了收入次高的组别。

- A、7 人
- B、12 人
- C、21 人
- D、23 人

101. 在 1996 年的该人群中, 约有百分之多少的人收入情况好于 1991 年 ( )

- A、54%
- B、43%
- C、29%
- D、37%

102. 下列图示能够反映 1991 年收入处于中等组的该人群在 1996 年收入分布情况的是 ( )



103. 根据上表, 下列说法错误的是 ( )

- A、收入情况属于某个分组的该人群在数年后依然留在该组的可能性比流入其他各组的可能性都大。
- B、该表数据不足以反映该人群长期性的收入特征。
- C、如果该人群的收入情况数年后发生了变化, 则他们最可能流入与他们最邻近的分组。
- D、1991—1996 年六年间, 共有 47.2% 的该人群从未进入过次高收入组和最高收入组。

### （三）、根据以下资料，完成各题。

2008 年全年某省农作物总播种面积 6606.46 万亩，同比增长 0.9%。主要品种中，粮食作物面积 3749.91 万亩，同比增长 0.8%；其中：稻谷面积 2920.35 万亩，同比增长 0.4%。甘蔗面积 224.51 万亩，油料作物面积 485.81 万亩，烟叶面积 35.23 万亩，蔬菜面积 1668.94 万亩，同比分别增长 1.5%、4.3%、19.9%和 4.5%。木薯面积 128.38 万亩，瓜类面积 60.64 万亩，青饲料面积 93.09 万亩，同比分别下降 10.4%、9.8%和 17.6%。

2008 年全年该省粮食作物产量 1243.44 万吨，同比下降 3.2%；其中：稻谷产量 1003.30 万吨，同比下降 4.1%。甘蔗产量 1198.84 万吨，油料产量 81.54 万吨，烟叶产量 4.93 万吨，蔬菜产量 2431.43 万吨，同比分别增长 1.5%、4.9%、18.2%和 3.4%。木薯产量 158.89 万吨，瓜类产量 97.78 万吨，青饲料产量 125.34 万吨，同比分别下降 9.0%、8.2%和 23.4%。

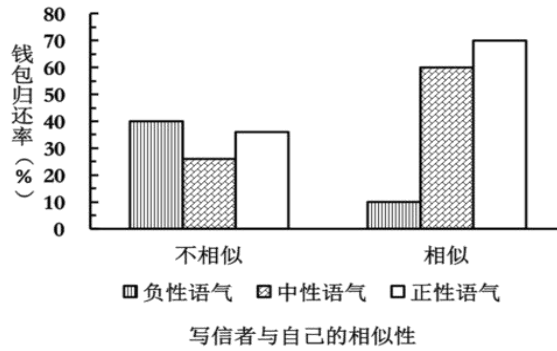
104. 2007 年，该省农作物总播种面积约多少万亩（ ）
- A、6320            B、6548            C、6453            D、6423
105. 2007 年，亩产量最高的作物是（ ）
- A、稻谷            B、甘蔗            C、蔬菜            D、木薯
106. 2007-2008 年，总产量绝对值变动最大的是（ ）
- A、稻谷            B、蔬菜            C、瓜类            D、青饲料
107. 2007 年全年该省农作物总播种面积中，稻谷的种植面积约多少万亩（ ）
- A、2932            B、2909            C、2920            D、830

### （四）、阅读以下研究简介，完成各题。

为了验证“人们会从与自己相似的人那里获得行动线索”的假设，心理学家做了一个实验。在纽约曼哈顿中心区，有超过 100 名的行人看到并拾起路上一个写着地址却没有贴邮票的信封。信封里有一个遗失的钱包和一封写给钱包主人的信。钱包里有两美元现金，一张签给 E.M.H 公司（研究项目成员名字的首字母组合）的支票，一张写着某人电话号码的纸片，一张钱包主人的身份信息卡（上面有钱包主人的姓名、电话号码和地址），以及其他一些东西。钱包主人名叫迈克尔·欧文——这个名字是研究者经过仔细挑选的，以避免含有种族或宗教的暗示。在所有情况下，钱包和里面的东西都是一样的，有变化的是写给钱包主人的信。在一种实验条件下，写信者是是与这些路人相似的人（即一个能流利使用英语、像本地人的写信者）；而在另一种实验条件下，写信者则是一个与路人不同的人（即一个几乎完全不懂英语的外国人）。另一个实验条件是不同的写信语气。在 1/3 的情况下，写信者用一种非常客气的语气（正性语气）写这封信，在另外 1/3 的情况下用一种中性的语气写信，在剩下 1/3 的情况下则是用一种不太客气的语气（负性语气）写信。例如，一位操流利英语的人（“相似的人”）用不太客气的语气写的信是这样的：欧文先生：我找到了你的钱包，如今物归原主。所有的东西都在里面。照看和归还这个钱包的整个过程实在是很麻烦，我觉得相当厌烦。希望你能够对我有所感激。而一位不相似的人用不太客气的语气写的信是这样的：欧文先生：我正在你们国家旅行，并不熟悉你们的行为方式。但是我发现你的钱包，东西都在里面了。对这个钱包负责并将它物归原主很费劲。其中的过程实在是繁琐，希望你能够对我有所感激。

行人们是否会归还钱包？对这些行人归还钱包情况的统计结果如下图所示。所谓钱包归还率就是指将钱包寄往失主地址的行人人数占该种实验条件下拾起钱包者的比重。

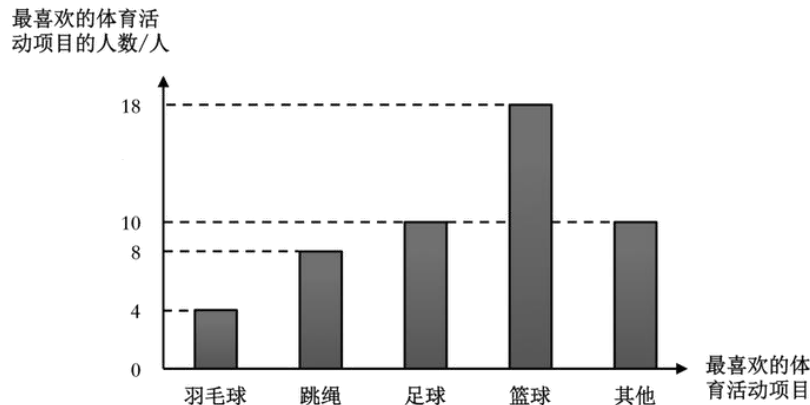
图 各种实验条件下行人归还丢失钱包的人数百分比



108. 从所有参加实验者来看，当写信者与自己相似的时候，人们归还钱包的比率大约为（ ）
- A、25%      B、35%      C、45%      D、60%
109. 从所有参加实验者来看，当写信者使用中性语气时，人们归还钱包的比率大约为（ ）
- A、25%      B、40%      C、55%      D、60%
110. 从参加实验的这 100 多个人所在的整个社会群体来看，当写信者与自己不相似的时候，信的正性语气与负性语气所引起的归还钱包的比率差异最可能为（ ）
- A、0      B、10%      C、20%      D、30%
111. 从参加实验的这 100 多个人所在的整个社会群体来看，当写信者使用正性语气时，写信者与参加实验者的相似性所引起的归还钱包的比率差异最可能为（ ）
- A、10%      B、20%      C、30%      D、40%
112. 以下推断不正确的是（ ）
- A、研究者精心挑选钱包主人的名字，是为了避免其他因素对实验结果产生干扰。
- B、写信的语气以及写信者与参加实验者的相似性对钱包归还比率产生交互影响。
- C、在写信者与参加实验者不相似的情况下，信件中性语气比信件不太客气语气所导致的钱包归还率低。从这一结果来看，该研究的人群抽样有很大漏洞。
- D、实验的结果支持了“人们会从与自己相似的人那里获得行动线索”这一假设。

**（五）、请根据以下信息，完成各题。**

为了响应“每天锻炼一小时”这一号召，某校围绕着“你最喜欢的体育活动项目是什么？”的问题，对在校学生进行了随机抽样调查，从而得到一组数据。每位被调查学生只允许选择一项体育活动。下图是根据这组数据绘制的条形统计图。请结合统计图回答下列问题：





113. 本次调查共调查了多少人 ( )
- A、18                      B、40                      C、50                      D、不能确定
114. 在所调查的学生当中, 最喜欢打篮球的学生约占百分之多少 ( )
- A、18%                      B、36%                      C、45%                      D、50%
115. 根据这次调查, 若该校有 850 名学生, 则可估计全校学生中最喜欢跳绳活动的学生约有多少名 ( )
- A、68                      B、72                      C、306                      D、136

**五、常识判断, 共 25 题, 根据题目要求, 在选项中选出答案。**

116. 宋玉在形容他的邻人东家之子时说, 这个女子“增之一分则太长, 减之一分则太短, 著粉则太白, 施朱则太赤”。东家之子的美貌反映了 ( ) 的辩证关系。
- A、质量与数量      B、运动与静止      C、时间与空间      D、肯定与否定
117. 下列说法与“少小离家老大回, 乡音无改鬓毛衰”所蕴涵的哲学寓意相一致的是 ( )
- A、细雨鱼儿出, 微风燕子斜                      B、坐地日行八万里, 巡天遥看一千河
- C、江山易改, 秉性难移                      D、此情可待成追忆, 只是当时已惘然
118. 张载说: “有象斯有对, 对必反其为。有反斯有仇, 仇必和而解。”这告诉我们 ( )
- A、世界上一切事物都是相对运动的                      B、时间与空间是事物的存在方式
- C、矛盾是对立统一的                      D、物质和运动是不可分的
119. 以下说法错误的一项是 ( )
- A、隋唐时期, 已有活字印刷的《史记》、《汉书》。
- B、韩非子主张建立君主专制, 而黄宗羲则抨击君主专制, 在他们各自所处的历史条件下, 其主张都具有进步性。
- C、“以伽利略的研究为基础, 将其成果发挥至辉煌的顶点”的科学家是牛顿。
- D、17、18 世纪, 欧洲思想领域出现了改造旧社会的政治构想。
120. 毛泽东同志总结中国近代历次运动失败时曾说: “没有农民办不成大事, 光有农民办不好大事。”
- 下列事件属于“光有农民办不好大事”的是 ( )
- A、洋务运动      B、辛亥革命      C、戊戌变法      D、义和团运动
121. “富贵不能淫, 贫贱不能移, 威武不能屈。此之谓大丈夫。”这一名言出自哪位之口 ( )
- A、孔子                      B、孟子                      C、老子                      D、庄子
122. “为天地立心, 为生民立命, 为往圣继绝学, 为万世开太平”是张载的座右铭, 也被认为是读书人所应担负的历史使命。
- 以下学者, 其言行与此最不相符的是 ( )
- A、王夫之                      B、龚自珍                      C、严复                      D、周作人
123. 有学者认为美国在其崛起过程中拥有得天独厚的安全环境和国际条件。以下选项不能说明这一观点的是 ( )
- A、东西两岸的两洋隔绝使美国能够免于卷入欧亚大陆的战争和冲突。
- B、通过两次世界大战, 美国获得了对欧洲的巨大债券和战争赔偿。
- C、德国和日本充当了对英国霸权的挑战者, 而为美国掩盖了崛起的事实。

D、在美国上升为新霸权国家的同时，构建了新的国际体系和国际关系理念。

124. 在穆罕默德统一阿拉伯半岛的过程中起到了重要作用的宗教是（ ）

- A、佛教                      B、犹太教                      C、基督教                      D、伊斯兰教

125. 与“欲穷千里目，更上一层楼”有异曲同工之妙的诗句是（ ）

- A、不畏浮云遮望眼，只缘身在最高层。                      B、总为浮云能蔽日，长安不见使人愁。  
C、不识庐山真面目，只缘身在此山中。                      D、莫愁前路无知己，天下谁人不识君。

126. 将下面《水浒传》的故事按事件的发展顺序排列，正确的是（ ）

①景阳冈打虎②独臂擒方腊③浔阳楼题反诗④宿太尉招安

- A、①②③④                      B、①②④③                      C、④②③①                      D、①③④②

127. “乐道安贫音容宛在，因材施教手泽犹存。”这幅对联适用于（ ）

- A、吊唁道士                      B、哀挽恩师                      C、恩师八十寿辰                      D、书院大门

128. 以下不能反映区域自然地理环境影响人们的生产方式、生活习惯、文化传统等方面的一句话是（ ）

- A、靠山吃山，靠海吃海                      B、一方水土养一方人  
C、早穿皮袄晚穿纱，围着火炉吃西瓜                      D、要想富先修路

129. 2008年5月26日，美国凤凰号探测器登陆火星，科学家希望能够借此分析火星上的（ ），进一步推断火星现在或者以前的环境是否适宜生命存在。

- A、水和有机物                      B、星核                      C、大气成分                      D、地质结构

130. 水是透明、没有颜色的，但为什么海中的浪花却是白色的（ ）。

- A、因为水花中有气泡                      B、因为水中的水分子相互摩擦  
C、因为水花中含有沙石                      D、因为海水的含盐量高

131. 电炉丝通电后热得发红，而与电炉丝连接的铜导线却不太热，这是因为：（ ）

- A、通过电炉丝的电流强度比通过铜导线的电流强度大  
B、铜导线的电阻小，所以消耗的电量少，电炉丝的电阻大，消耗的能量多，所以热得发红  
C、铜导线有绝缘层，所以不怎么热  
D、铜导线比电阻丝传热快，所以不怎么热

132. 下列现象中，其本质与其他三个现象的本质不同的现象是（ ）

- A、在水平操场上滚动的足球，最终要停下来。  
B、人走路被石头绊倒会向前倾倒。  
C、锤头松了，把锤柄的一端在物体上撞击几下，锤头就能紧套在锤柄上。  
D、子弹从枪膛里射出后，虽然不再受到火药的推力，但是仍然向前运动。

133. “西气东输”输送的气体的主要成分是（ ）

- A、一氧化碳                      B、氢气                      C、甲烷                      D、二氧化碳

134. 人们长时间处在较大的压力状态下，身体、心理状态都会产生一定的变化。

以下人们在长时间压力状态下的反应，最为常见的是（ ）

- A、一直保持亢奋的精神状态                      B、保持一段时间的比较投入的状态后，精神和体力状态急剧下降  
C、一直保持比较抑郁的状态                      D、比较长时间的压抑状态之后，精神和体力状态达到高峰

135. 依照我国《公务员法》，下述情况，可录用为公务员的人员是（ ）

A、曾受过行政处分的      B、外籍人士      C、曾被开除公职的      D、曾因犯罪受过刑事处罚的

136. 以下说法不正确的是（ ）

- A、魏晋南北朝分裂的三百年是我国民族大融合的重要时期
- B、杜甫的诗歌记录了唐朝由盛转衰的过程
- C、吴三桂“冲冠一怒为红颜”，引清兵入关，推翻明朝
- D、孙中山先生的革命思想经历了从学习西方到联俄联共的变化

137. 大众传媒最基本的功能就是获取信息和传递信息，人们借助它们，突破了时间和空间的限制，将信息迅速传递到目标地点。（ ）是信息社会的一个标志性的信息传播手段。

- A、电影      B、电视      C、互联网      D、报刊

138. 以下变化使事物性质发生改变的是（ ）

- A、酒精挥发      B、矿石粉碎      C、冰雪融化      D、白磷自燃

139. 全面提高对外开放水平要坚持的基本战略是（ ）

- A、坚持“引进来”和“走出去”相结合      B、坚持独立自主自力更生原则
- C、鼓励有比较优势的企业到境外投资设厂      D、积极应对倾销和反倾销

140. 党和国家 2020 年的奋斗目标是（ ）

- A、基本实现现代化      B、全面建设小康社会      C、构建社会主义和谐社会      D、全面实现科学发展