

## 2014年412联考内蒙古《行测》真题卷

### 第一部分 常识判断（共20题）

根据题目要求，在选项选出答案。

1. 下列关于铅的说法错误的是：（ ）  
A、铅笔芯的主要成分是铅  
B、香烟中是含铅的  
C、铅在人体内日积月累，不会分解  
D、汽油中添加铅元素可以起到防爆的作用
2. 关于四大文明古国及其数学成就，下列对应错误的是：（ ）  
A、古埃及：“0”的发现  
B、古印度：阿拉伯数字  
C、古巴比伦：六十进位制  
D、古中国：勾股定理
3. 下列关于火山的表述错误的是：（ ）  
A、喷出的物质有气态、液态和固态三种  
B、页岩是最常见的岩浆岩  
C、五大连池的形成与火山喷发有关  
D、可分为死火山、活火山和休眠火山
4. 关于海水及其运动，下列说法错误的是：（ ）  
A、海水的冰点温度比淡水低  
B、北海道渔场位于寒流与暖流的交汇处  
C、波罗的海是世界上盐度最高的海域  
D、波浪、潮汐和洋流是海水运动的主要形式
5. 下列关于石灰的说法错误的是：（ ）  
A、生石灰通常可以作为食品干燥剂  
B、澄清石灰水放置在空气中易变浑浊  
C、汉白玉与石灰石的主要成分相同  
D、“烈火焚烧若等闲”指熟石灰的高温煅烧
6. 关于中国地理，下列说法错误的是：（ ）  
A、九寨沟国家地质公园以雅丹地貌闻名  
B、藏羚羊主要生活在可可西里国家级自然保护区  
C、张家界国家森林公园处于武陵山脉的腹地  
D、三江并流风景名胜区已被列入《世界遗产名录》
7. 下列哪组不属于夺命“急症”是：（ ）  
A、肺栓塞、哮喘  
B、冠心病、毒品过量  
C、脑出血、急性坏死性胰腺炎  
D、阑尾炎、腹膜炎
8. 下列哪组物品均属可燃固体？（ ）  
A、香蕉水、酒精  
B、面粉、油漆  
C、沥青、松香  
D、甲烷、乙炔
9. 下列哪项不在中国地形的第二级阶梯上？（ ）  
A、秦岭  
B、呼伦贝尔高原  
C、鄂尔多斯高原  
D、巴颜喀拉山
10. 关于矿产资源及其主要分布国，下列对应错误的是（ ）  
A、硝石：加拿大  
B、磷矿：摩洛哥  
C、铜矿：智利、秘鲁  
D、金矿：南非
11. 关于农作物，下列说法正确的是：（ ）

- A、中国是最早栽培大豆的国家  
B、玉米是通过丝绸之路传入中国的  
C、花生是世界上最主要的油料作物  
D、泰国是世界上最大的稻米出口国
12. 关于下列各组人物说法错误的是：（ ）  
A、苏格拉底、柏拉图和亚里士多德被称为“古希腊三贤”  
B、颜回、曾子都属孔子七十二门徒  
C、荀子及其弟子韩非子是法家学派的代表人物  
D、康有为、梁启超都是“公车上书”的发起人
13. 下列体育人物与其擅长领域对应错误的是：（ ）  
A、罗尼·奥沙利文：斯诺克台球  
B、拉菲尔·纳达尔：棒球  
C、罗杰·费德勒：网球  
D、泰格·伍兹：高尔夫
14. 关于亚洲政坛女性首脑，下列说法错误的是：（ ）  
A、科拉松·阿基诺夫人是亚洲首位女总统  
B、阿罗约曾任菲律宾总统之职  
C、朴槿惠的父亲曾任韩国总统  
D、英拉·西那瓦是马来西亚总理
15. 关于我国公务员制度，下列叙述正确的是：（ ）  
A、正在接受纪律审查的公务员不得辞去公职  
B、我国公务员培训基地是党校  
C、公务员对降职不服，可以向人民法院提出申诉  
D、公务员考核的基本内容包括德、能、勤、绩、才
16. 下列思想流派与产生时代对应错误的是：（ ）  
A、心学——明代  
B、玄学——魏晋  
C、理学——宋代  
D、儒学——汉代
17. 关于政治思想，下列表述错误的是：（ ）  
A、孟德斯鸠提出三权分立学说  
B、伏尔泰最早提出社会契约论的思想  
C、柏拉图主张建立哲学王统治的国家  
D、让·布丹提出君主主权学说
18. 关于存款保险制度，下列说法错误的是：（ ）  
A、存款保险制度起始于 20 世纪 30 年代大萧条之后的美国  
B、存款保险制度有利于保护存款人的利益，提高公众对银行体系的信心  
C、存款保险由存款人向存款保险公司投保  
D、存款保险通常只赔偿存款人因银行倒闭而遭受的部分损失
19. 关于我国的农民工现象，下列说法错误的是：（ ）  
A、农民工是我国特有的城乡二元体制的产物  
B、近年来跨省流动农民工所占比重继续下降  
C、从输出地看，中部地区输出农民工最多，西部次之，东部最少  
D、“新生代农民工”主要指 80 后、90 后，目前在农民工群体中占一半以上
20. 根据民事诉讼法的规定，下列说法错误的是：（ ）  
A、人民法院调解和好的离婚案件，可以不制作调解书  
B、修改后的民事诉讼法增加了“公益诉讼”的内容

- C、人民法院可以根据实际情况，决定采取传真的方式送达判决书
- D、修改后的民事诉讼法规定，当事人所在社区可推荐公民作为诉讼代理

## 第二部分 言语理解（共 26 题）

本部分包括表达与理解两方面的内容，请根据题目要求选出答案。

21. 预循环是一种更环保的生活方式，指通过\_\_\_\_\_购入会产生垃圾的家庭或商业物品来减少垃圾数量的行为。可循环的垃圾经过处理后可以\_\_\_\_\_别的功效，可是处理这些可循环物质也是要消耗能源并产生垃圾的，所以更加环保的方式是尽量少用会产生垃圾的物品。

依次填入画横线部分最恰当的一项是：（ ）

- A、避免 发挥
- B、杜绝 具备
- C、放弃 衍生
- D、禁止 实现

22. 在环境问题上，我们所面临的困境不是由于我们\_\_\_\_\_，而是我们尽力了，但却无法遏制环境恶化的势头，这是一个信号：把魔鬼从瓶子里放出来的人类，已经失去把魔鬼再装回去的能力。

填入画横线部分最恰当的一项是：（ ）

- A、无所顾忌
- B、无所不为
- C、无所事事
- D、无所作为

23. 在美国这样的商业社会里，无论他们抛出了多少关乎人文、情怀、精神的辞藻，几乎所有艺术与技术，\_\_\_\_\_都是一门生意，即便是教主乔布斯和他的苹果也不例外。但这本身无可指摘，也不\_\_\_\_\_这些公司和这些人缔造一个伟大的时代。

依次填入画横线部分最恰当的一项是：（ ）

- A、自始至终 影响
- B、归根结底 妨碍
- C、毋庸置疑 干扰
- D、理所当然 排斥

24. 从 20 世纪末开始的十几年间，中国大学招生数激增了五六倍，为制造业和高科技行业提供了\_\_\_\_\_的劳动力，但增长速度过快，远超过普通或无技能劳动力的增速，导致就业市场配置错位。

填入画横线部分最恰当的一项是：（ ）

- A、源源不断
- B、应有尽有
- C、形形色色
- D、数不胜数

25. 现在，很多保健品的广告做得很好，但消费者并不知道自己有没有必要买这些东西，其实很多保健品在研究时并未做过\_\_\_\_\_调查，并不知道哪些营养素是大家普遍缺乏的。服用未经这样的调查就开发出的保健品，对消费者来说完全是一种\_\_\_\_\_。

依次填入画横线部分最恰当的一项是：（ ）

- A、实地 伤害
- B、科学 浪费
- C、跟踪 欺骗
- D、严格 误导

26. 2007 年全球金融海啸肆虐。以家电为代表的消费性电子产品外销的需求急速衰退，家电企业可谓\_\_\_\_\_。为了扩大国内市场，也为了让国内家电企业走出低谷，家电下乡、以旧换新、节能补贴等政策陆续出台，这些扶持性政策\_\_\_\_\_，对家电业的发展产生了巨大推动作用。

依次填入画横线部分最恰当的一项是：（ ）

- A、如履薄冰 有的放矢    B、今非昔比 有目共睹    C、举步维艰 不负众望    D、江河日下 任重道远

27.你肯定听过这种理论：左撇子的右脑运作比较活跃，因此更为感性，具有艺术天赋；右撇子则充分锻炼了左脑，因而擅长逻辑思维，性格更加理性。这个观念是如此深入人心，以至于有些父母或教育者煞费苦心地让孩子平衡左右手活动。

接下来作者最有可能谈论的是：（    ）

- A、左右脑为何存在分工                      B、左右脑如何协调工作  
C、左右脑分工不同的例子                  D、左右脑未必存在明确分工

28.最新研究显示，所谓“好胆固醇”也许并非真的那么好。研究引用大量基因资料，发现俗称“好胆固醇”的高密度蛋白型胆固醇（HDL）水平即使升高，对降低心脏病的风险并不低于天生HDL水平较低的人士。如果HDL真的有助于降低心脏病风险，前者患心脏病的机会应该较低。没有参与研究的学者对相关结果感到不安。

下列哪项最适合做这段文字的标题？（    ）

- A、遗传因素与心脏病                          B、心脏病研究的新发现  
C、“好胆固醇”或并不存在                  D、胆固醇对心脏病的影响

29.“苍蝇妈妈”是对那些过分关注孩子的家长的称谓，这类家长试图时刻走在孩子前面，提前为他们扫清障碍。美国华盛顿大学的一项相关研究显示，过分关照孩子的父母会妨碍儿童个人能力和独立意识的发展；无微不至的照料会降低儿童的幸福感，并令他们长大后难以正确对待压力。受到父母过度照料的儿童，长大以后会经常意志消沉，对生活不满，精神焦虑。为了孩子的身心健康，“苍蝇妈妈”们\_\_\_\_\_。

填入横线部分最恰当的一项是：（    ）

- A、请适当降低对孩子的期望值                  B、请移开你们挡在孩子面前的身体  
C、请先学会不被其他意见影响或左右              D、请相信你们纠结的事情其实没那么重要

30.①草原上的大量事例已经证明这些帝国都是昙花一现

②这些民族在历史上是一股巨大的力量

③这种压力不断地影响着这些地区历史的发展

④世界上的游牧民族大都生息在欧亚大草原上

⑤他们的历史重要性在于他们向东、向西流动时，对中国、波斯、印度和欧洲所产生的压力

⑥他们的历史重要性主要不在于他们所建立的帝国

将以上六个句子进行排序，正确的一项是：（    ）

- A、①④⑥⑤③②              B、①⑥⑤③④②              C、④②⑥①⑤③              D、④①⑥⑤②③

31.几乎每个人的内心深处，都有着对乌托邦和理想社会的向往。反乌托邦主题则是将其逻辑进行推演，最终会发现理想（主要是对制度和技术的崇拜）往往会导致种种无法控制的弊端：极权统治、非人性社会、精神压抑等。与乌托邦批判“旧”或允诺“新”的热度相比，反乌托邦的语汇更加冷峻，也更尊重人性的真实，大多数反乌托邦作品都充满想象力和黑色幽默，其辛辣的讽刺让我们哭笑不得，然后冷汗涔涔。

对这段文字概括最准确的是：（ ）

- A、介绍反乌托邦作品的特点
- B、揭示乌托邦理想的弊端
- C、描述理想与现实之间的鸿沟
- D、指出乌托邦与反乌托邦作品的差异

32. 英国有着高福利的传统，1601年英国引入世界首部《济贫法》，1948年依据《贝弗里奇计划》，宣布建成世界上第一个福利国家，承诺提供“从摇篮到坟墓”全天候福利保障制度服务。但随着经济不景气、尤其是老龄化的日趋严重，英国65岁以上老年人口目前已达16%，养老金严重入不敷出，目前养老金缺口已达GDP的26%。养老金改革合情合理，但这无疑触动了国民养老费用的奶酪，遭至强烈反抗也在情理之中。显然，福利制度的刚性特征使得由简入奢易，由奢入简难。

对这段文字概括最准确的是：（ ）

- A、描述英国养老金改革计划举步维艰的状况
- B、揭示人口老龄化对英国政府提出的新要求
- C、反思英国实行全天候福利保障制度的弊端
- D、分析英国高福利传统难以为继的客观原因

33. 在没有特别说明的情况下，通货膨胀一般是用消费者价格指数（CPI）衡量的物价涨幅，这主要是因为CPI是根据一国消费者最终消费支出的商品种类和权重编制的价格指数。该指数直接影响居民收入的真实购买力。政府从维护居民福利的角度看，没有哪个价格指数比CPI更合适，更体贴民意了。而食品价格波动主导了中国的消费者价格波动，这不仅是因为食品价格在商品篮子中超过三成以上的比重，更重要的是食品价格本身的剧烈变动。故而关注食品价格波动成为研究中国通货膨胀的重中之重。

对这段文字概括最准确的是：（ ）

- A、说明在中国食品价格为何成为研究通胀问题的焦点
- B、分析控制食品价格波动对中国国计民生的重要意义
- C、解释食品价格波动如何对消费者价格指数产生影响
- D、强调提高居民的真实购买力应从控制食品价格入手

34. 传统理论认为，人类祖先由于气候变化、树木减少，被迫离开树栖环境，选择在地面上直立行走。一项最新研究则认为，早期人类直立行走源自现今非洲东部和南部崎岖山脉地区，该地形是上新世时期火山喷发和构造板块移动形成的。人类的祖先被岩石地形和峡谷所吸引，这里可提供很好的庇护栖息地，同时有机会诱捕猎物；这种环境要求早期人类具备直立行走和攀登的能力，因此人类祖先最终逐渐进化为两足直立行走。

下列哪项与最新研究的结论相符是：（ ）

- A、气候变化致使早期人类选择直立行走
- B、人类祖先选择直立行走是为了更好地适应地形环境
- C、地质条件的变化改变了人类早期祖先的行走方式
- D、人类祖先由于食物匮乏被迫离开最初的生活环境

35. 默读电视新闻、广告和节目文稿的人，比观看电视节目本身的人能记住和回想起更多信息；你鄙视某杂志的价值原则，仍可以津津有味地读它，如果电视节目出现这种情况，你就看不下去，赶紧换台。在这种情况下，我

们不愿意把时间花在不同意的观点上，就不太可能进行反思，实际上对一切东西的质疑都将更为稀少。把两个书面记录摆在一起看，很容易发现不一致处，甚至能很容易地辨别信息之间权威程度的差别；比较两个视频报道就比较麻烦了，在被要求从两个互相冲突的电视报道中加以选择时，观众要么依靠直觉，要么依靠他在观看之前相信的东西。

这段文字意在说明是：（ ）

- A、阅读文本比看电视更助于思考
- B、信息接受途径影响人的行为习惯
- C、电视有可能使人形成错误的价值观
- D、喜欢阅读的人比爱看电视的人更冷静

36. 在漫长的进化过程中，食物匮乏一直是人类面临的首要威胁。由于食物供应的不确定性和食物不能长期保留，人类一直过着饱一顿、饿几顿的生活，能够最大限度有效利用食物的个体具有生存优势。在经历了反复的饥荒选择后，具有生存优势的个体和他们体内的基因，就会通过自然选择的方式被保留下来。这些基因能在饱餐一顿后刺激胰岛素大量分泌，从而最大限度地转化利用血液中的葡萄糖。虽然这样做的代价是可能导致肥胖，但它对肌体的危害所造成的生存威胁，却直到中年后才会表现出来，而在人类历史的绝大部分时间里，人的平均寿命不到30岁。

这段文字意在说明是：（ ）

- A、古人的生存环境与现代人完全不同
- B、人类的生理结构是自然选择的结果
- C、食物匮乏是人类长期应对的首要问题
- D、肥胖与人类生存繁衍的优势基因相关

37. 人类很早就知道城墙的防御效果，古往今来，不知上演过多少隔墙而战的攻防战役。蒙古人开始征战世界时，善于野战的游牧骑兵团对攻城束手无策。但蒙古人善于学习，很快就掌握了攻城的战术，并将各地的攻城武器集中起来综合使用，达到了很好的效果，许多固若金汤的城池都被摧毁了，欧洲当时那些较薄的城墙，根本不能抵御蒙古人的攻击。特别是蒙古人开始使用多种威力巨大的火器，更具破坏性，从此以后，由于火炮的火力改进，城墙的作用就逐渐从人类历史中消失了。

这段文字意在说明是：（ ）

- A、蒙古兵团是怎样征服欧洲的
- B、城墙是如何退出历史舞台的
- C、火器是如何在攻城战中发挥作用的
- D、蒙古的游牧兵团是如何调整战术的

38. 过去的20年间，金砖国家与欧美发达国家的相对位置不约而同地发生了迅速而巨大的变化。需要强调的不仅是“迅速”和“巨大”，还应该注意“不约而同”，因为金砖国家的崛起各自遵循了相去甚远的发展战略，增长模式各不相同。除了时间的同步性之外，金砖国家的经济奇迹并无多少共同之处。如果说“金砖”奇迹的确能说明什么，恐怕最准确的结论应该是，这几个国家以自己的成功检验了“条条大路通罗马”这样一个古已有之的道理，证明新兴经济体完全可以凭借自己的力量实现崛起，赶超西方世界。

这段文字意在说明是：（ ）

- A、金砖国家之间应建立稳固的磋商机制
- B、每个国家都有权选择适合自己的发展道路
- C、新兴经济体显示出令世界刮目相看的实力
- D、金砖国家之间在发展模式上差异很大

39. 亚洲国家躲过了近年来的全球大萧条，其中最主要的原因是它未被卷入 2008 年金融危机。然而近日一项调查显示，亚洲的债务水平正在以可怕的速度增长。从某些方面来说，这有部分合理理由，许多国家的超低息政策鼓励贷款，债务增长是财富增长的自然产物，但值得警惕的是，亚洲国家需要借助更大的债务规模来保持经济增长。这个信息表明，亚洲经济健康状况不像 GDP 增长速度反映的那样良好，亚洲目前的债务水平总体来说低于欧洲，还处在安全范围内，但债务的迅速增长会让经济体更容易遭受冲击。

这段文字意在表明是：（ ）

- A、亚洲国家经济增长缺乏后劲
- B、盲目追求 GDP 增长速度后患无穷
- C、亚洲国家需警惕陷入债务危机
- D、要全面认识超低息贷款政策的利弊

40. 商标作为一种大众传播的视觉符号，一定要具有特定含义，并且需要以简洁的形象，鲜明地传达出它所具有的特定信息。所以，只具有形象美而不具有丰富内涵的商标是不能称为“标志”的，充其量只是一种图案或图形。同时，我们也必须明白，每个企业都必然具有多方面的特性，试图用一种形象涵盖所有信息是不可能的，试图在一枚商标中容纳所有特征，也是不可取的。这就需要设计师通过分析和筛选，提炼出对象所具有的独特属性，使其与视觉形象完美融合，从而创造出全新的、具有鲜明指示性的符号标识。

这段文字意在说明是：（ ）

- A、商标怎样才能呈现企业的独特属性
- B、商标的创造过程是对设计师的考验
- C、商标应该是形象与内涵的完美统一
- D、商标的内涵是对商标的最基本要求

41. 在中国传统观念中，雕塑一直未被看作是与绘画同等的艺术形式；在中国传统学术中，也只有“画学”而没有“雕塑学”。历史上的这种不重视，造成 19 世纪末 20 世纪初，大量具有极高史料研究价值的石雕作品流失海外。而今天，新兴收藏家们的目光也只停留在艺术品的财富表象上，因此使得元、明、清三代的铜塑金佛像价格一路飞涨。而面对那些真正体现中国雕塑文化及历史风貌的高古石雕时，他们表现得却有些畏畏缩缩、举棋不定，这难免让人觉得遗憾。

这段文字主要谈论的是：（ ）

- A、观念上重视雕塑艺术的意义
- B、目前雕塑收藏家不成熟的心态
- C、高古石雕在中国不受重视的原因
- D、雕塑收藏品价格与价值背离的状况

42. 维生素 E 是一种溶解于油的维生素，它是一种抗氧化剂，能清除氧自由基，从而保护细胞膜上的脂质，而脂质的氧化与冠心病、癌症、衰老等密切相关。总之，维生素 E 是人体不可缺少的营养成分，但是“需要”并不意味着越多越好。维生素 E 缺乏在人群中很少发生，只有几种人可能存在问题：胆汁缺乏或脂肪代谢困难的人；罕见的基因异常导致缺乏维生素 E 转移蛋白的人；因早产而体重严重不足的婴儿，这些情况在人群中都不易出现。

这段文字所传达的观点是：（ ）

- A、正常人没必要补充维生素 E
- B、应该正确认识维生素 E 的作用
- C、人们对维生素 E 的认识存在误区
- D、要特别注意可能缺乏维生素 E 的人

43. 据英国《每日邮报》报道，科学家和心理学家长期以来一直未解开一个谜团——为什么我们会忘记童年发生

的事情？这是人生之中最无忧无虑、最快乐的时光。目前，两位科学家认为他们揭开了谜底。他们指出，生命初期大脑记忆中枢的细胞快速生长，这意味着早期存在的大脑记忆细胞之间的关键性连接将被更新替代，因此，人们童年时期的记忆就不太可能恢复。他们认为，这可以解释为什么人类很少有对幼年时期的回忆。实际上，无法回忆起童年生活的细节也具有一定的好处，它能使人们不会经常回忆起婴儿时期发生的一些不愉快事件。

根据这段文字，童年回忆缺失的主要原因是：（ ）

- A、大脑记忆细胞快速发育
- B、记忆随时间而模糊消退
- C、生命初期语言能力较低
- D、儿童具有自我保护机制

44. 全球变暖是老天爷对人类开出的罚单，便宜且容易利用的矿石燃料，是推动近现代经济增长的重要源泉之一，但科学证明这可能带来灾难性的气候变化。目前不得不面对的现实是，人类必须为自己的排放买单。如果世界上只有一个国家，此事就相对简单，不管成本多大，最终都由这个国家承担。但问题是，世界上有许多国家，国情历史大不相同，这张巨额罚单究竟在各国间如何分配，就成了关于全球变暖问题谈判最核心的问题。所有的国家，他们做出的所有的减排承诺，最后都会有一张价格标签，承诺越多，价码越高。

这段文字意在说明是：（ ）

- A、减排成本份额应按各国的排放量合理分配
- B、沉重的减排成本有可能拖累全球经济增长
- C、遏制全球变暖需要支付巨额经济成本
- D、利益是应对全球变暖问题的最大症结

45. 历史上，语言在世界上的分布反映了世界权力的分配，使用最广泛的语言，如英语、西班牙语、法语、阿拉伯语和俄语，都是或曾是帝国的语言，这些帝国曾积极促进其他民族使用它们的语言。权力分配的变化产生了语言使用的变化，英国和法国都曾坚持在其殖民地使用自己的语言，但大多数前殖民地独立后，都在不同程度上努力用本土语言代替帝国语言，并取得了不同程度的成功。

这段文字意在说明是：（ ）

- A、本土语言是民族独立的重要标志
- B、语言使用是政治权力的某种表现
- C、利用权力推行语言是无法持续的
- D、殖民统治对语言分布有深刻影响

46. 气象条件及其变化不仅影响人的生理健康，对心理情绪的影响也非常明显。有利的气象条件使人情绪高涨、心情舒畅；不利的气象条件使人情绪低落、懒惰无力，甚至导致心理及精神病态和行为异常。研究表明，高温、高湿、阴雨以及一些异常天气事件，都不利于人的心理健康。世卫组织的一份资料表明，20 世纪的厄尔尼诺现象使全球约 10 万人患上抑郁症，精神病发病率上升 8%。究其原因，是该现象引起全球范围的气候异常和天气灾难，超过部分人的心理承受能力，导致其出现坐卧不安、思维迟钝等精神异常状况。

这段文字意在说明是：（ ）

- A、异常天气会对人的精神状况产生不利影响
- B、抑郁症与气候异常、天气灾难有一定关系
- C、有必要深入研究厄尔尼诺等异常气象条件
- D、古代“天人合一”的说法有一定的科学道理

### 第三部分 数量关系（共 15 题）



**本部分包括数字推理、数理计算。**

47. 某单位利用业余时间举行了 3 次义务劳动, 总计有 112 人次参加。在参加义务劳动的人中, 只参加 1 次、参加 2 次和 3 次全部参加的人数之比为 5:4:1。问该单位共有多少人参加了义务劳动? ( )

- A、70                      B、80                      C、85                      D、102

48. 环形跑道长 400 米, 老张、小王、小刘从同一地点同向出发, 围绕跑道分别慢走、跑步和骑自行车。已知三人的速度分别是 1 米/秒、3 米/秒和 6 米/秒, 问小王第 3 次超越老张时, 小刘已经超越小王多少次? ( )

- A、3                      B、4                      C、5                      D、6

49. 箱子里有大小相同的 3 种颜色玻璃珠各若干颗, 每次从中摸出 3 颗为一组, 问至少要摸出多少组, 才能保证至少有 2 组玻璃珠的颜色组合是一样的? ( )

- A、11                      B、15                      C、18                      D、21

50. 某市电价为一个自然月内用电量在 100 度以内的每度电 0.5 元, 在 101 度到 200 度之间的每度电 1 元, 在 201 度以上的每度电 2 元。张先生家第三季度缴纳电费 370 元, 该季度用电最多的月份用电量不超过用电最少的月份的 2 倍, 问他第三季度最少用了多少电? ( )

- A、300                      B、420                      C、480                      D、512

51. 一菱形土地面积为  $\sqrt{3}$  平方公里, 菱形的最小角为  $60^\circ$ 。如果将这一菱形土地向外扩张变为一正方形土地, 问正方形土地边长最小为多少公里? ( )

- A、 $\sqrt{2}$                       B、 $\sqrt{3}$                       C、 $\sqrt{6}$                       D、 $2\sqrt{6}$

52. 从 A 市到 B 市的航班每周一、二、三、五各发一班。某年 2 月最后一天是星期三。问当年从 A 市到 B 市的最后一次航班是星期几出发的? ( )

- A、星期一                      B、星期二                      C、星期三                      D、星期五

53. 甲乙两辆车从 A 地驶往 90 公里外的 B 地, 两车的速度比为 5:6, 甲车于上午 10 点半出发, 乙车于 10 点 40 分出发, 最终乙车比甲车早 2 分钟到达 B 地。问两车的时速相差多少千米/小时? ( )

- A、10                      B、12                      C、12.5                      D、15

54. 某有色金属公司四种主要有色金属总产量的  $\frac{1}{5}$  为铝,  $\frac{1}{3}$  为铜, 镍的产量是铜和铝产量之和的  $\frac{1}{4}$ , 而铅的产量比铝多 600 吨。问该公司镍的产量为多少吨? ( )

- A、600                      B、800                      C、1000                      D、1200

55. 药厂使用电动研磨器将一批晒干的中药磨成药粉。厂长决定从上午 10 点开始, 增加若干台手工研磨器进行辅助作业。他估算如果增加 2 台, 可在晚上 8 点完成, 如果增加 8 台, 可在下午 6 点完成。问如果希望在下午 3 点完成, 需要增加多少台手工研磨器? ( )

- A、20                      B、24                      C、26                      D、32

56. 某工厂有 100 名工人报名参加了 4 项专业技能课程中的一项或多项, 已知 A 课程与 B 课程不能同时报名。如

果按照报名参加的课程对工人进行分组，将报名参加的课程完全一样的工人分到同一组中，则人数最多的组最少有多少人？（ ）

- A、7                      B、8                      C、9                      D、10

57. 某单位组织参加理论学习的党员和入党积极分子进行分组讨论，如果每组分配 7 名党员和 3 名入党积极分子，则还剩下 4 名党员未安排；如果每组分配 5 名党员和 2 名入党积极分子，则还剩下 2 名党员未安排，问参加理论学习的党员比入党积极分子多多少人？（ ）

- A、16                      B、20                      C、24                      D、28

58. 一个圆形的草地中央有一个与之同心的圆形花坛，在花坛圆周和草地圆周上各有 3 个不同的点，安放了洒水的喷头。现用直管将这些喷头连上，要求任意两个喷头都能被一根水管连通，问最少需要几根水管(1 根水管上可以连接多个喷头)是：（ ）

- A、5                      B、8                      C、20                      D、30

59. 工厂需要加工一批零件，甲单干工作需要 96 个小时完成，乙需要 90 个小时、丙需要 80 个小时。现在按照第一天甲乙合作，第二天甲丙合作，第三天乙丙合作的顺序轮班工作，每天工作 8 小时，当全部零件完成时，甲工作了多少小时是：（ ）

- A、16                      B、24                      C、44                      D、32

60. 一家四口人的年龄和为 149 岁。其中外公年龄、母亲年龄以及两人的年龄之和都是平方数，而父亲 7 年前的年龄正好是孩子年龄的 6 倍。问外公年龄上一次是孩子年龄的整数倍是在几年前是：（ ）

- A、2                      B、4                      C、6                      D、8

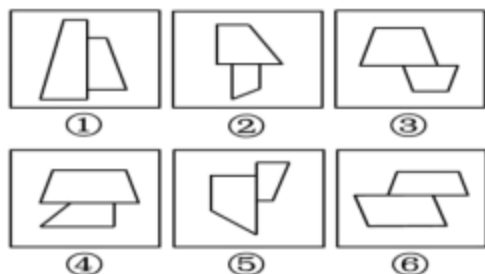
61. 一间房屋的长、宽、高分别是 6 米、4 米和 3 米。施工队员在房屋内表面上画一条封闭的线，其所画的线正好在一个平面上且该平面正好将房屋的空间分割为两个形状大小完全相同的部分。问其所画的线可能的最长距离和最短距离之间的差是多少米？（ ）

- A、6                      B、 $6(\sqrt{5}-1)$                       C、8                      D、 $4(\sqrt{13}-2)$

#### 第四部分 判断推理（共 44 题）

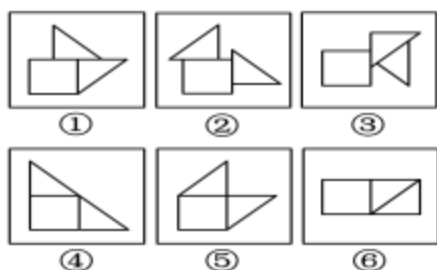
本部分包括图形推理、定义判断、类比推理、逻辑判断。

62. 把下面的六个图形分成两类。使每一类图形都有各自的共同特征或规律。分类正确的一项是：（ ）



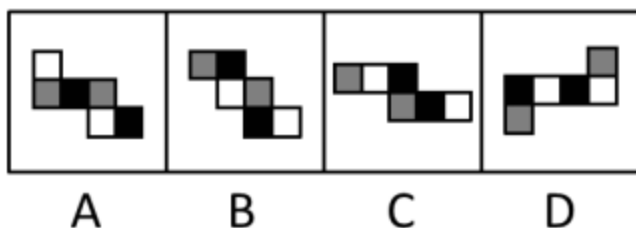
A、①②③ ④⑤⑥      B、①②④ ③⑤⑥      C、①②⑤ ③④⑥      D、①③④ ②⑤⑥

63. 把下面的六个图形分成两类，使每一类图形都有各自的共同特征或规律，分类正确的一项是：（ ）

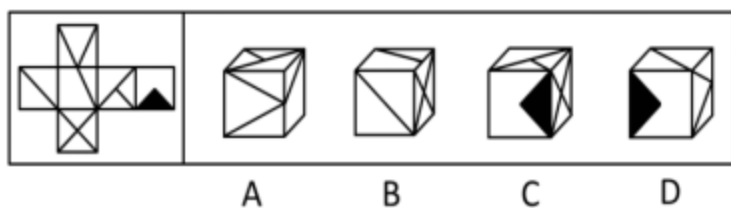


A、①②③, ④⑤⑥      B、①③⑤, ②④⑥      C、①④⑥, ②③⑤      D、①⑤⑥, ②③④

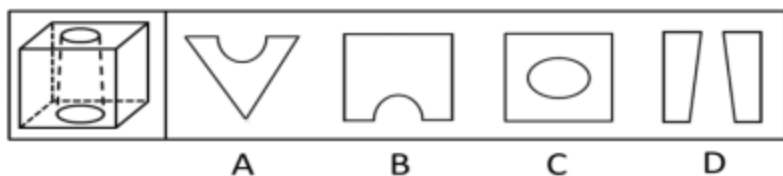
64. 如用白、灰、黑三种颜色的油漆为正方体盒子的6个面上上色，且两个相对面上的颜色都一样，以下哪一个不可能是该盒子外表图的展开图是：（ ）



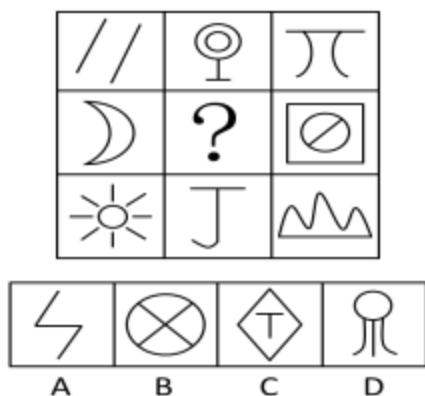
65. 左边给定的是纸盒外表面的展开图，右边哪一项能由它折叠而成？请把它找出来是：（ ）



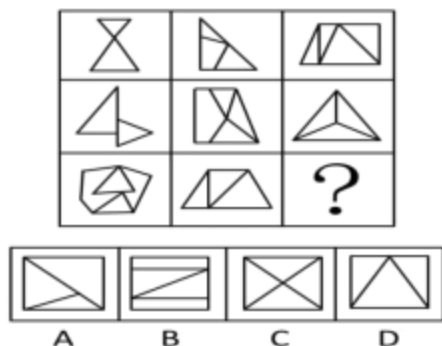
66. 下列的立体图形是立方体中挖出一个圆锥台孔后形成的，如果从任一面剖开，以下哪一个不可能是该立体图形的截面是：（ ）



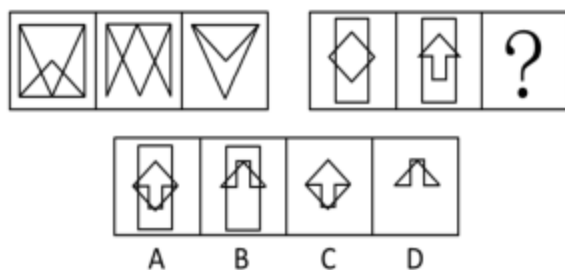
67. 从所给的四个选项中，选择最合适的一个填入问号处，使之呈现一定的规律性是：（ ）



68. 从所给的四个选项中，选择最合适的一个填入问号处，使之呈现一定的规律性是：（ ）



69. 请从所给的四个选项中，选择最合适的一项填在问号处，使之呈现一定的规律性。（ ）



70. 经营性资产是在生产和流通中能够为社会提供商品或劳务的资产。经营性资产的使用单位是具有法人地位的企业，其运营要以追求经济效益为原则。从会计角度看，主要指企业因盈利目的而持有，且实际也具有盈利能力的资产。

根据上述定义，下列不属于“经营性资产”的是：（ ）

- A、某电视机厂中积压的黑白电视机
- B、建设中尚未投入使用的水力发电站
- C、某外贸公司用于交纳税金的银行存款
- D、某重点中学新购入的实验室设备和器材

71. 诱导运动是一种视错觉，即观察者知觉到某个物体在运动，而实际上该物体没有发生空间移动，只是由于其他物体的运动使得被观察物体看起来好像在运动。

根据上述定义，下列属于诱导运动的是：（ ）

- A、在没有月光的夜晚仰望天空，觉得星星好像在动
- B、电影院里播放的精彩电影
- C、月亮在云彩后面穿行
- D、注视飞速开过的火车之后，会觉得附近的树木向相反方向运动

72. 风险规避是指通过计划的变更来消除风险或风险发生的条件，保护目标免受风险的影响。风险规避并不意味着完全消除风险，而是规避风险可能造成的损失，一是要降低损失发生的几率，这主要是采取事先控制措施；二是要降低损失程度。这主要包括事先控制、事后补救两个方面。

根据上述定义，下列不属于“风险规避”的是：（ ）

A、某外语培训机构近两年业务发展迅速，但缺乏配套的资金投入，因此该机构选择通过上市发行股票这一渠道来筹集资金